


Веселая математика для занятий дома




Какая это цифра?

Эта цифра —
единица.

Тонкий носик,
будто спица,
Вниз повесила.

Грустна,
Ведь она всего
одна.



А вот
это цифра два.
Полубуйся
какова:
Выгибает
двойка шею,
Волочится
хвост за нею.



Два крючочка,
посмотри,
Получилась цифра
три.
Но на эти два
крючка
Не насадишь
червячка.



3

Кто-то ночью
старый стул
Спинкой вниз
перевернул.
И теперь у нас в
квартире
Стал он цифрою 4!



4

Цифра пять - с
большим
брюшком,
Носит кепку с
козырьком.

В школе эту цифру
пять
Дети любят
получать



5

Что за вишенка,
дружок,
Кверху загнут
стебелек?
Ты ее попробуй
съесть,
Эта вишня -
цифра шесть




6




Я такую кочергу
Сунуть в печку
не смогу.
Про нее
известно всем,
Что она зовется
"семь".

7



Вилась
веревочка,
вилась,
В две петельки
заплелась.
"Что за цифра?" -
маму спросим.
Мама нам
ответит:
"Восемь".

8



Ветер сильный
дул и дул,
Вишенку
перевернул.
Цифра шесть,
скажи на
милость,
В цифру девять
превратилась.

9



$6 < 9$

$3 > 2$

$5 = 5$

$8 > 7$




$4 = 4$

$8 < 10$

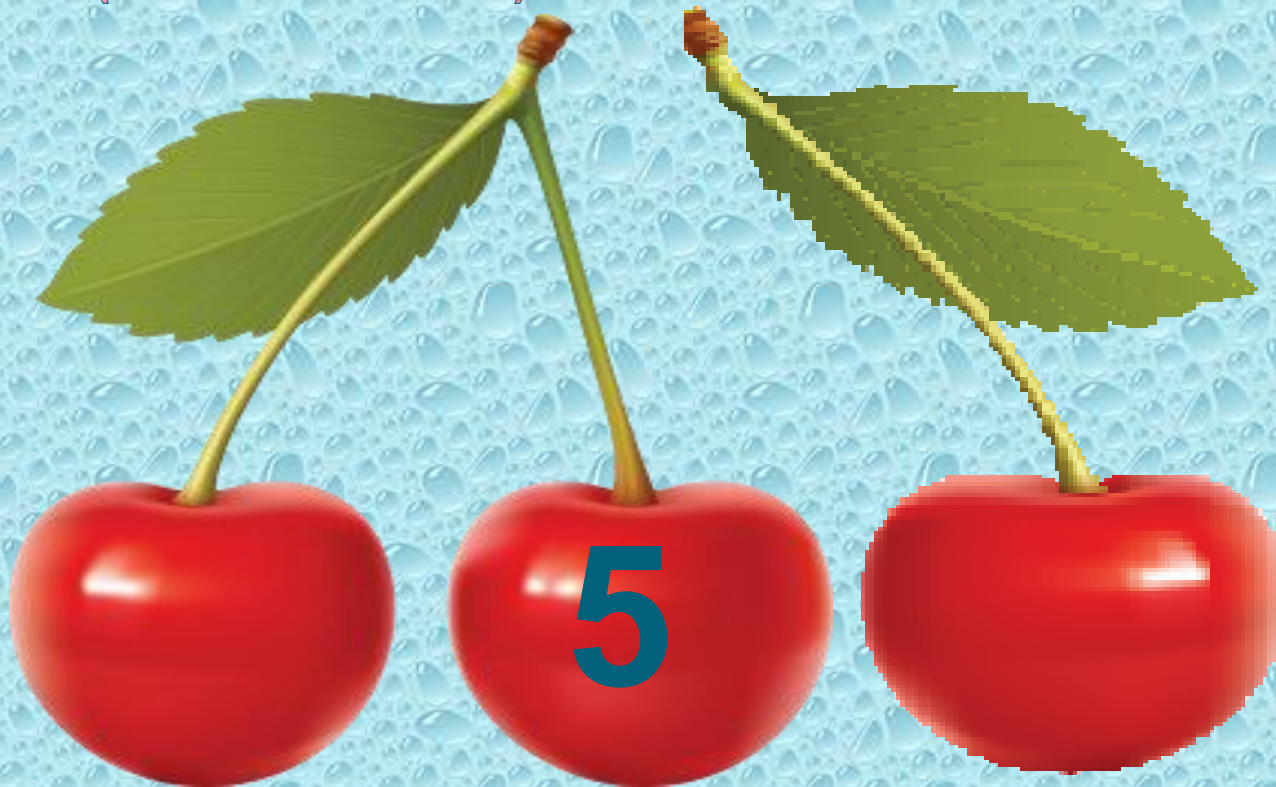
$5 < 7$

$2 < 6$

$4 > 3$



Запиши предыдущие и последующие числа
(«соседей») для данных чисел:





1 2 3 4 5 6 7 8 9 10



- 1
- 2
- 3
- 4
- 5
- 6
- 7
- 8
- 9
- 10



- 0 1 2 3 4 5 6 7 8 9

1

2

3

4

5

6

7

8

9

10




У какой фигуры больше всех углов?




треугольник



квадрат



шестиугольник




пятиугольник



параллелограмм


У какой фигуры три стороны и три угла?



круг



квадрат




ромб



треугольник

Какая фигура называется прямоугольник?



**ДОРОГИЕ ДРУЗЬЯ, ЕСЛИ У ВАС
ПОЛУЧИЛОСЬ ВСЕ ВЫПОЛНИТЬ, ВЫ
НАСТОЯЩИЕ МОЛОДЦЫ!!!**

